

Nom et prénom 1 : _____


Groupe A

Nom et prénom 2 : _____



Table numéro : _____

Wattmètre

Le but de ce TP est d'apprendre à utiliser un wattmètre en mesurant une résistance sous alimentation continue et de l'interroger à distance avec LabVIEW.



Brancher la source de tension DC (sur l'étagère sur le côté du pupitre) à la résistance de la Bluebox en y insérant le wattmètre entre les deux.



Régler une tension selon le tableau ci-dessous :

Numéro de table	Tension DC	Numéro de table	Tension DC
Table 05	15.0V	Table 10	17.5V
Table 06	15.5V	Table 11	18.0V
Table 07	16.0V	Table 12	18.5V
Table 08	16.5V	Table 13	19.0V
Table 09	17.0V	Table 14	19.5V

