


EPFL

Ens: Prof. Friedrich Eisenbrand
 Algèbre Linéaire Avancée II - (n/a)
 29 juin 2021
 180 minutes













n/a

n/a

SCIPER: **999999**Signature: 

Attendez le début de l'épreuve avant de tourner la page. Ce document est imprimé recto-verso, il contient 16 pages, les dernières pouvant être vides. Ne pas dégrafer.

- Posez votre carte d'étudiant sur la table.
- **Aucun** document n'est autorisé.
- L'utilisation d'une **calculatrice** et de tout outil électronique est interdite pendant l'épreuve.
- Pour les questions à **choix multiple**, on comptera :
 - +3 points si la réponse est correcte,
 - 0 point si il n'y a aucune ou plus d'une réponse inscrite,
 - 1 point si la réponse est incorrecte.
- Pour les questions de type **vrai-faux**, on comptera :
 - +1 point si la réponse est correcte,
 - 0 point si il n'y a aucune ou plus d'une réponse inscrite,
 - 1 point si la réponse est incorrecte.
- Utilisez un **stylo** à encre **noire ou bleu foncé** et effacez proprement avec du **correcteur blanc** si nécessaire.
- Si une question est erronée, l'enseignant se réserve le droit de l'annuler.

Respectez les consignes suivantes Read these guidelines Beachten Sie bitte die unten stehenden Richtlinien		
choisir une réponse select an answer Antwort auswählen	ne PAS choisir une réponse NOT select an answer NICHT Antwort auswählen	Corriger une réponse Correct an answer Antwort korrigieren
  		 
ce qu'il ne faut PAS faire what should NOT be done was man NICHT tun sollte		
     		

Première partie, questions à choix multiple

Pour chaque question marquer la case correspondante à la réponse correcte sans faire de ratures. Il n'y a qu'une seule réponse correcte par question.

Question [SQC-01] : Soit $A \in \mathbb{C}^{8 \times 8}$ une matrice avec polynôme caractéristique

$$p_A(x) = (x - 1)^5(x + 1)^2(x - 2)$$

et polynôme minimal

$$m_A(x) = (x - 1)^2(x + 1)(x - 2).$$

Soit J une forme normale de Jordan de A .

Alors

- J a au plus 4 blocs de Jordan pour la valeur propre 1.
- J a au plus 6 blocs de Jordan.
- J a un seul bloc de Jordan pour la valeur propre -1.
- Aucune des réponses n'est correcte.

Question [SQC-02] : Quel est le polynôme caractéristique de la matrice $A \in \mathbb{Q}^{6 \times 6}$

$$A = \begin{pmatrix} 2 & 1 & 2 & 2 & 1 & 1 \\ 0 & 1 & 3 & 4 & 1 & 2 \\ 0 & 2 & 1 & 1 & 1 & 1 \\ 0 & 0 & 1 & 1 & 1 & 1 \\ 0 & 0 & 1 & 0 & 2 & 1 \\ 0 & 0 & 1 & 0 & 0 & 1 \end{pmatrix} ?$$

- $x^6 - 8x^5 + 17x^4 - 8x^3 - 10x^2 + 16x - 8.$
- $x^6 - 8x^5 + 13x^4 + 5x^3 - 25x^2 + 30x - 8.$
- $x^6 - 8x^5 + x^4 + 5x^3 - 2x^2 + 16.$
- $x^6 - 8.$

Question [SQC-03] :

Laquelle des applications suivantes $f : \mathbb{Z}_5^3 \times \mathbb{Z}_5^3 \rightarrow \mathbb{Z}_5$ n'est pas une forme bilinéaire ?

- $f(x, y) = 7x_1y_2 + 5x_2 + 4y_3.$
- $f(x, y) = 12x_1y_2 + 4x_3y_3.$
- $f(x, y) = 12x_1y_2 + 2x_2y_3^5.$
- $f(x, y) = 0.$

CATALOGUE

Question [SQC-04] : Trouver la solution du système suivant :

$$\begin{aligned}x_1' &= 3x_1 + 4x_2 \\x_2' &= -4x_1 + 3x_2\end{aligned}$$

sujet aux conditions initiales $x_1(0) = 2$ et $x_2(0) = -1$.

$x_1(t) = e^{3t}(2 \cos(4t) - \sin(4t)), x_2(t) = e^{3t}(-\cos(4t) - 2 \sin(4t)).$

Aucune des réponses n'est correcte.

$x_1(t) = e^{3t}(\cos(4t) - 2 \sin(4t)), x_2(t) = e^{3t}(-2 \cos(4t) - \sin(4t)).$

$x_1(t) = e^{4t}(2 \cos(3t) - \sin(3t)), x_2(t) = e^{4t}(-\cos(3t) - 2 \sin(3t)).$

Question [SQC-05] : Soit $A \in \mathbb{R}^{n \times n}$ telle que $A^3 = A$. Alors on a que:

$e^{tA} = I_n + A \sum_{i=0}^{\infty} \frac{t^{2i+1}}{(2i+1)!} + A^2 \sum_{i=0}^{\infty} \frac{t^{2i}}{(2i)!} - A^2.$

Aucune des réponses n'est correcte.

$e^{tA} = I_n + A \sum_{i=1}^{\infty} \frac{t^{2i+1}}{(2i+1)!} + A^2 \sum_{i=1}^{\infty} \frac{t^{2i}}{(2i)!}.$

$e^{tA} = I_n + A \sum_{i=1}^{\infty} \frac{t^{2i+1}}{(2i+1)!} + A^2 \sum_{i=1}^{\infty} \frac{t^{2i}}{(2i)!} + A^2.$

Question [SQC-06] : Soit $A \in \mathbb{C}^{n \times n}$, et soient $\sigma_1, \dots, \sigma_r$ ses valeurs singulières. Alors on a que:

$\sigma_1^2, \dots, \sigma_r^2$ sont les valeurs propres positives de $A\bar{A}^T$.

$\sigma_1^2, \dots, \sigma_r^2$ sont les valeurs propres positives de AA^T .

$\sigma_1^2, \dots, \sigma_r^2$ sont les valeurs propres positives de $A^T A$.

Aucune des réponses n'est correcte.

Deuxième partie, questions du type Vrai ou Faux

Pour chaque question, marquer (sans faire de ratures) la case VRAI si l'affirmation est **toujours vraie** ou la case FAUX si elle **n'est pas toujours vraie** (c'est-à-dire, si elle est parfois fausse).

Question [TF-00] :

Soit $n \in \mathbb{N}_{>0}$ et soit $\langle u, v \rangle = \sum_{i=1}^n u_i v_i$ la forme bilinéaire standard sur \mathbb{Q}^n . Chaque sous-espace de \mathbb{Q}^n possède une base orthogonale $\{b_1, \dots, b_n\}$ t.q. $\langle b_i, b_i \rangle = 1, i = 1, \dots, n$.

VRAI FAUX

Question [TF-02] : Soient $B = (b_1, \dots, b_n), n \in \mathbb{N}_{>0}$ une base de l'espace euclidien V et $B^* = (b_1^*, \dots, b_n^*)$ la base orthogonale résultant du procédé de Gram-Schmidt sur B , et soit $k \in \{1, \dots, n\}$. Soit un vecteur $p \in V$ où $p = \sum_{i=1}^n \alpha_i b_i = \sum_{i=1}^n \beta_i b_i^*$, avec $\alpha_i, \beta_i \in K$. Si $\alpha_k \neq 0$ alors $\beta_k \neq 0$.

VRAI FAUX

Question [TF-03] : Soit $A \in \mathbb{C}^{n \times n}$ une matrice singulière. La matrice e^A est non-singulière.

VRAI FAUX

Question [TF-04] : Soit R un anneau, et soit $R^{n \times n}$ l'anneau des matrices $n \times n$ sur R . Le centre de $R^{n \times n}$ est $Z(R^{n \times n}) = \{aI_n : a \in Z(R)\}$.

VRAI FAUX

Question [TF-05] : Soit K un corps et $f(x), g(x) \in K[x] \setminus \{0\}$. Si $f(x)$ et $g(x)$ ont les mêmes racines (avec multiplicité), alors $f(x) = ag(x), a \in K \setminus \{0\}$.

VRAI FAUX

Question [TF-06] : Soit $A \in \mathbb{C}^{n \times n}$ une matrice diagonalisable. Alors il existe une matrice unitaire U telle que $UAU^* = D$ où D est une matrice diagonale avec les valeurs propres de A sur la diagonale.

VRAI FAUX

Question [TF-08] : Soit $A, B \in \mathbb{R}^{n \times n}$. Si A et B sont diagonalisables et elles ont le même spectre, alors elles sont semblables.

VRAI FAUX

Question [TF-09] : Soit $A \in \mathbb{C}^{n \times n}$ une matrice hermitienne et définie positive. Alors A^{-1} est une matrice définie positive.

VRAI FAUX

CATALOGUE

Question [TF-11] : Soit $A \in \mathbb{C}^{n \times n}$ avec valeurs propres $\lambda_1, \dots, \lambda_k$ et soit $m_A(x) = \prod_{i=1}^k (\lambda_i - x)^{m_i}$ son polynôme minimal. Le nombre de blocs de Jordan associé à une valeur propre λ_i est égal à l'exposant m_i de $(\lambda_i - x)$ dans $m_A(x)$.

VRAI FAUX

Question [TF-12] : Soit A une matrice nilpotente, si bien que $A^k = 0$ pour un certain entier $k > 0$. Alors, dans une solution $x(t) = \begin{pmatrix} x_1(t) \\ \vdots \\ x_n(t) \end{pmatrix}$ du système différentiel $x' = Ax$, chaque fonction $x_i(t)$ est un polynôme en t de degré au plus k .

VRAI FAUX

Question [TF-13] : Soit $A \in \mathbb{C}^{n \times n}$ telle que $A^5 = A$. Alors A est diagonalisable.

VRAI FAUX

Question [TF-14] : Soit V un espace euclidien et soient $v_1, \dots, v_n \in V$ des vecteurs deux à deux orthogonaux. Soit $v \in \text{span}\{v_1, \dots, v_n\}$ et soient $\alpha_i = \langle v, v_i \rangle$ pour $i = 1, \dots, n$. Alors $\sum_{i=1}^n \alpha_i^2 = \|v\|^2$.

VRAI FAUX

Question [TF-16] : Soit K un corps et $A, B \in K^{n \times n}$ inversibles. Les valeurs propres de AB et celles de BA sont les mêmes.

VRAI FAUX

Question [TF-19] : Il existe un polynôme $d(x) \in \mathbb{Q}[x]$ de degré au moins 1 qui divise $f(x) = 3x^4 + 8x^2 + 4 \in \mathbb{Q}[x]$ et $g(x) = 2x^4 + 6x^2 + 4 \in \mathbb{Q}[x]$.

VRAI FAUX

Question [TF-20] :

Soit $(G, +)$ un groupe abélien engendré par g_1, g_2, g_3, g_4 . Soit $\phi : \mathbb{Z}^4 \rightarrow G$ défini comme:

$$\phi((x_1, x_2, x_3, x_4)^T) = x_1g_1 + x_2g_2 + x_3g_3 + x_4g_4$$

et soit $\ker(\phi) = \{Ay : y \in \mathbb{Z}^2\}$ où $A = \begin{pmatrix} 2 & 1 \\ 2 & 3 \\ 4 & 5 \\ 6 & 7 \end{pmatrix}$. Alors $G \cong \mathbb{Z}_2 \oplus \mathbb{Z}^2$.

VRAI FAUX

Question 24: Cette question est notée sur 10 points.

0	.5	1	.5	2	.5	3	.5	4	.5	5
.5	6	.5	7	.5	8	.5	9	.5	10	

Réservé au correcteur

Soit $A \in \mathbb{C}^{n \times n}$. Le rayon spectral ρ est défini comme $\rho = \max\{|\lambda| : \lambda \in \mathbb{C}, \lambda \text{ valeur propre de } A\}$. On considère la suite $A^n, n \in \mathbb{N}$.

Montrer les assertions suivantes :

- (a) Si $\rho \geq 1$, alors A^n ne converge pas vers la matrice 0.
- (b) Soit $B = \lambda I + N$, où $\lambda \in \mathbb{C}$ et $N \in \mathbb{C}^{n \times n}$ est une matrice nilpotente. Si $|\lambda| < 1$ alors $\lim_{n \rightarrow \infty} B^n = 0$.
- (c) La suite A^n converge vers 0 si et seulement si $\rho < 1$.



Question 25: Cette question est notée sur 10 points.

0	.5	1	.5	2	.5	3	.5	4	.5	5
.5	6	.5	7	.5	8	.5	9	.5	10	

Réservé au correcteur

Dans cet exercice, on considère le produit scalaire standard sur \mathbb{R}^n .

- (a) Soit $H \subset \mathbb{R}^n$ un sous-espace de \mathbb{R}^n et soit $v \in \mathbb{R}^n$. Soit $l \in H$ t.q. $\langle v - l, h \rangle = 0$ pour tout $h \in H$.
Montrer que

$$\|v - l\| \leq \|v\|.$$

- (b) Soit $A \in \mathbb{R}^{n \times n}$ de rang plein et soit $A = A^*R$ une factorisation selon la méthode de Gram-Schmidt (colonnes de $A^* \in \mathbb{R}^{n \times n}$ deux-à-deux orthogonaux et $R \in \mathbb{R}^{n \times n}$ triangulaire supérieure avec que de 1 sur la diagonale). Montrer que

$$\det(A^T A) = \prod_{i=1}^n \|a_i^*\|^2,$$

où a_i^* est la i -ème colonne de la matrice A^* .

- (c) Montrer que $|\det(A)| \leq \prod_{i=1}^n \|a_i\|$, où a_i est la i -ème colonne de la matrice A .



CATALOGUE

CATALOGUE